

DIMENZIA X

ČOSKORO VSTÚPIŠ DO FANTASTICKEJ DIMENZIE X!
PODOBÁ SA NÁŠMU SVETU, ALE ŽIJÚ V NEJ SUPERHRDINOVIA,
KTORÍ MAJÚ SUPERSCHOPNOSTI, A TO SA POČÍTA!

POSTUJ DĽEJ, ZISTI VŠETKO O ICH MATEMATICKÝCH SUPERSCHOPNOSTIACH
A NAUČ SA ICH POUŽÍVAŤ AJ TY.

NIELENŽE TO BUDE PRE TEBA HRAČKA, ALE UŽIJEŠ SI AJ KOPEC ZÁBAVY VĎAKA
ŠTYROM KAMOŠOM, ČO TI POMÔŽU:



KVIKA



MŇAUKO



HOPKA



KROKY

NAŠI MALÍ SUPERHRDINOVIA MAJÚ MNOHO MATEMATICKÝCH SUPERSCHOPNOSTÍ.

KVIKA MÁ ŠPECIÁLNE VIDENIE, VĎAKA ČOMU VIE BLESKURÝCHLE POČÍTAŤ.

MŇAUKO VYRIEŠI PRÍKLADY POHĽADOM Z VÝŠKY.

HOPKA DOKÁŽE SVIŽNE SKÁKAŤ Z JEDNÉHO ČÍSLA NA DRUHÉ.


KROKY VIE ROBIŤ DOKONALÉ TVARY.

NIEKTORÉ Z ICH SUPERSCHOPNOSTÍ ZÍSKAŠ AJ TY - RÝCHLO -, PRI INÝCH SA BUDEŠ MUSIEŤ O NIEČO VIAC SÚSTREDIŤ, ALE S TROŠKOU TRPEZLIVOSTI SI ICH NEPOCHYBNE VŠETKY HRAVO OSVOJÍŠ.

POČKAJ, NIE TAK RÝCHLO! EŠTE JE TU ČOSI, NA ČO NESMIEME ZABUDNÚŤ!

BUDEŠ PREDSA POTREBOVAŤ VLASTNÝ SUPERHRDINOVSKÝ OBLEK - MUSÍŠ PREDSA CHRÁNIŤ SVOJU SKUTOČNÚ IDENTITU. LEN TAK MÔŽEŠ BEZPEČNE ČELIŤ VŠETKÝM MATEMATICKÝM VÝZVAM.

VYTVOR SI IDEÁLNY KOSTÝM NA OBRÁZKU NIŽŠIE. MÔŽEŠ POUŽIŤ AJ NÁLEPKY ZO ZADNEJ STRANY, KDE NÁJDEŠ ÚŽASNÉ STRATOSFÉRICKE DOPLNKY KU SVOJMU SUPEROBLEKU.






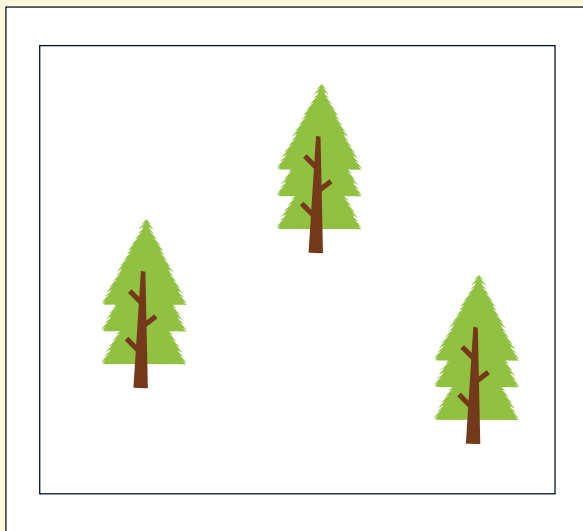
VIAC ALEBO MENEJ







ZOZNÁM SA S KVIKOU: VĎAKA ŠPECIÁLNEMU VIDENIU DOKÁŽE VECI ZRÁTAŤ V PRIEBEHU SEKUNDY.

PRÁSK!

VIAC ALEBO MENEJ? SKÚS NA TO PRÍŠŤ LEN JEDNÝM RÝCHLYM POHĽADOM. RÁMIK, KDE JE PREDMETOV NA OBRÁZKU VIAC, VYFARBI ZELENOU FARBOU, RÁMIK, KDE ICH JE MENEJ, VYFARBI ČERVENOU.



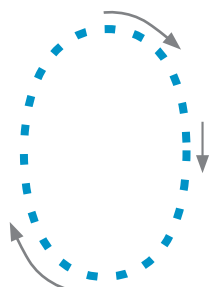


OD NULA DO DEVÄT

MŇAUKO NAKRESLIL NA OBLOHU ČÍSLA OD 0 DO 9.
VIEŠ, AKO ICH NAPÍSAŤ?

MŇAUKO TI POMÔŽE PRI ICH OPAKOVANÍ. POĎME NA TO!

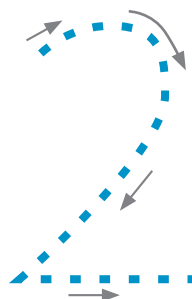
KRESLI POPRI VYBODKOVANÝCH ČIARACH A ODHAĽ TAK
ČÍSLA.




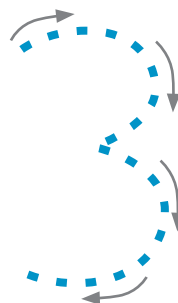
NULA ZNAČÍ,
ŽE NEMÁŠ NIČ.



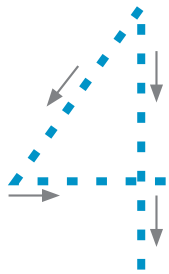
PÝTAŠ SI: „**JEDNU** ZMRZLINU,
PROSÍM.“



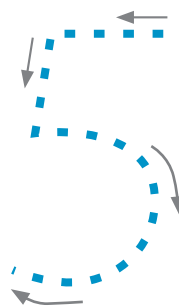
DVE NAZNAČUJE PÁR,
NAPRÍKLAD PÁR TOPÁNOK.



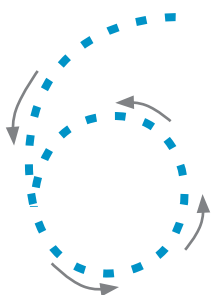
NA SEMAFORE NÁJDEŠ
TRI SVETLÁ.



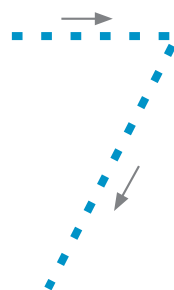
ŠTVORKU POTREBUJEME, ABY SME VEDELI OPÍSAŤ, KOĽKO NÔH MÁ MAČKA.



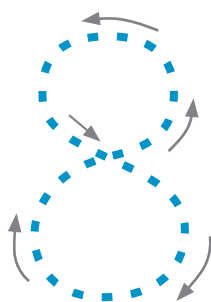
PÄŤ JE JEDNODUCHÉ ČÍSLO NA ZAPAMÄTANIE - LEN SA POZRI, KOĽKO MÁŠ PRSTOV NA RUKE.



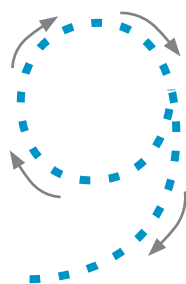
ČÍSLO **ŠEŠŤ** JE TIEŽ JEDNODUCHÉ. EŠTE AJ VČIELKA TOTO ČÍSLO POZNÁ, VEĎ SAMA MÁ NÔH ŠEŠŤ.



V TÝŽDNI MÁME **SEDEM** DNÍ: PONDELOK, UTOROK, STREDA, ŠTVRTOK, PIATOK, SOBOTA A NEDEĽA.



PAVÚK MÁ **OSEM** NÔH. ŠTYRI NA JEDNEJ STRANE, ŠTYRI NA DRUHEJ. A ŠTYRI PLUS ŠTYRI JE OSEM.



| | | |
|---|---|---|
| ○ | × | ○ |
| × | ○ | × |
| × | × | ○ |

NA PIŠKVORKOVEJ TABUĽKE JE **DEVÄŤ** POLÍČOK. VYBERIEŠ SI **X** ALEBO **O**? PRETOČ STRÁNKU A VYSKÚŠAJ SI ZAHRAŤ PIŠKVORKY.